



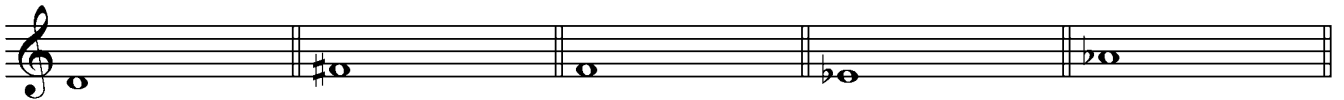
ACCESO A 1º G. P.
PROBA AUDITIVA

NOME	ESPECIALIDADE

1. Escribe a equivalencia que escoites.



2. Escribe a segunda nota e o intervalo (número e especie)



3. Escribe o compás das seguintes melodías

Melodía 1:

Melodía 2:

Melodía 3:




Melodía 4:

4. Escribe o nome da escala empregada en cada melodía.

Melodía 1:

Melodía 2:

5. Dictado rítmico melódico



ACCESO A 1º G. P.
PROBA AUDITIVA

NOME	ESPECIALIDADE
SOLUCIÓNS	

1. Escribe a equivalencia que escoites.

♪ = ♪

♪ = ♪22

2. Escribe a segunda nota e o intervalo (número e especie)

5ª J 3ª m 4ª A 6ª M 4ª J

3. Escribe o compás das seguintes melodías:

6/8 2/4 3/4 5/8

4. Escribe o nome da escala empregada en cada melodía.

Dórica Pentáfona

5. Dictado rítmico melódico